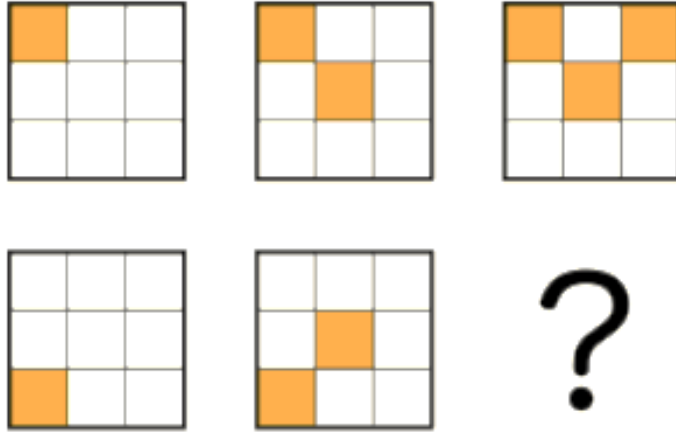
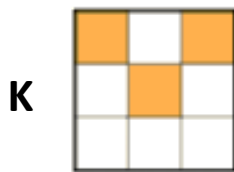


# Zaļā trasīte

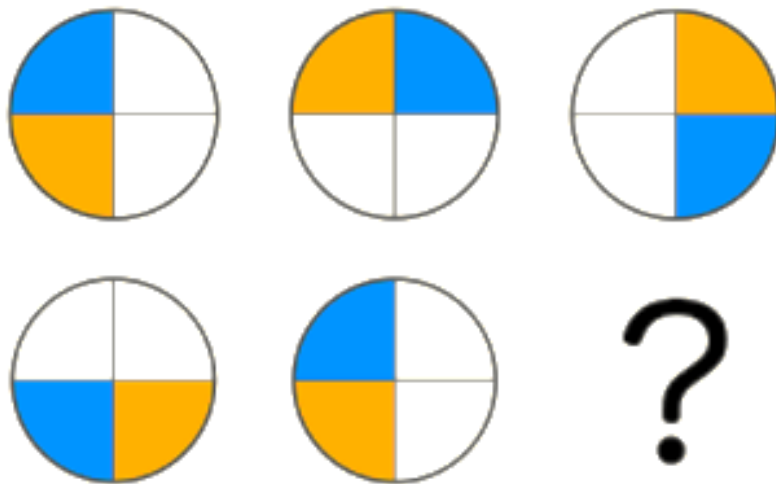


Kurš no zemāk dotajiem variantiem der jautājuma zīmes vietā?

Pareizās atbildes **burtu ieraksti** savā **darba lapā 7.lauciņā!**



# Zaļā trasīte



Kurš no zemāk dotajiem variantiem der jautājuma zīmes vietā?

Pareizās atbildes **burtu ieraksti** savā **darba lapā 5.lauciņā!**



## Zaļā trasīte

7 4 1  
9 6 ?

Kurš no zemāk dotajiem variantiem der jautājuma zīmes vietā?

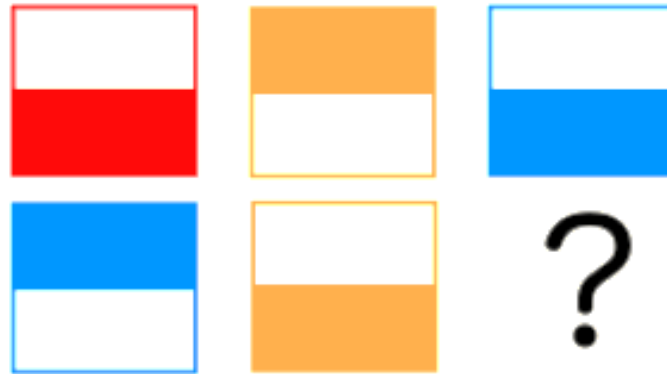
Pareizās atbildes **burtu ieraksti** savā **darba lapā 4.lauciņā!**

I 3  
E 0

S 5  
M 8

L 2  
C 10

# Zaļā trasīte




Kurš no zemāk dotajiem variantiem der jautājuma zīmes vietā?

Pareizās atbildes **burtu ieraksti** savā **darba lapā 8.lauciņā!**






# Zaļā trasīte



Kurš no zemāk dotajiem variantiem der jautājuma zīmes vietā?

Pareizās atbildes **burtu ieraksti** savā **darba lapā 2.lauciņā!**



# Zaļā trasīte




Kurš no zemāk dotajiem variantiem der jautājuma zīmes vietā?

Pareizās atbildes **burtu ieraksti** savā **darba lapā 6.lauciņā!**



# Zaļā trasīte




Kurš no zemāk dotajiem variantiem der jautājuma zīmes vietā?

Pareizās atbildes **burtu ieraksti** savā **darba lapā 3.lauciņā!**



# Zaļā trasīte



Kurš no zemāk dotajiem variantiem der jautājuma zīmes vietā?

Pareizās atbildes **burtu ieraksti** savā **darba lapā 1.lauciņā!**



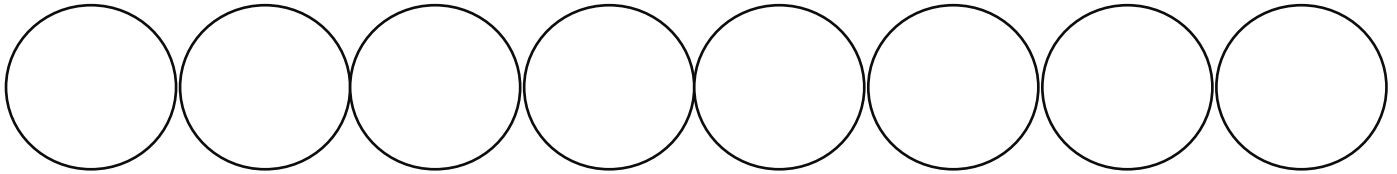


# Zaļās trasītes darba lapa

## Trasīte "Kalnā augšā, no kalna lejā"

Meklē kartē atzīmētos punktus, atrodi zaļās trasītes uzdevumu!

**Iespied zīmodziņu, ko atradīsi katrā punktā!**



Risini katrā punktā atrasto uzdevumu, **ievieto** uzdevuma atrisinājuma **burtu** tukšajos lauciņos!

1.

2.

3.

4.

5.

6.

7.

8.